


La somme des numéros des deux pages de mon livre de mathématiques est 257.

**Quel est le numéro de la page de droite ?**




**Combien y a-t-il de pastilles sur cette étagère ?**




L'horloge est tombée en panne il y a 1h30.

**Dans combien de temps retentira la sonnerie de l'école qui annonce la fin de la matinée à 11h45 ?**



Indique le nombre de triangles, de carrés et de rectangles que tu vois.



Si 19 voitures entrent dans le parking de la médiathèque, combien de places seront occupées en tout dans ces 4 parkings ?



Combien de punaises va-t-on utiliser pour accrocher le calendrier en partant du mois de septembre 2020 jusqu'au mois d'août 2021 ?