


 **Petits Problemes** 7

Alex a 20 voitures. Il veut les ranger dans 4 boites. Il doit y en avoir autant dans chaque boite.  
**Combien de voitures y aura-t-il dans chaque boite ?**



--	--	--	--	--	--	--	--	--	--	--	--	--	--	--	--	--	--	--	--

 **Petits Problemes** 8

Alex achète un livre à 15 euros et un ballon à 10 euros.  
**Combien Alex a-t-il dépensé ?**



--	--	--	--	--	--	--	--	--	--	--	--	--	--	--	--	--	--	--	--

 **Petits Problemes**

Moustik a 3 paquets de croquettes. Dans chaque paquet, il y a 12 croquettes. Il verse toutes ses croquettes dans sa gamelle.  
**Combien y aura-t-il de croquettes dans la gamelle ?**


--	--	--	--	--	--	--	--	--	--	--	--	--	--	--	--	--	--	--	--

 **Petits Problemes**

Lisa a 20 euros dans son porte-monnaie. Elle dépense 12 euros au supermarché.  
**Combien reste-t-il dans son porte-monnaie ?**




--	--	--	--	--	--	--	--	--	--	--	--	--	--	--	--	--	--	--	--

 **Petits Problemes**

Lisa mange 5 chocolats. Dans la boite, il y avait 20 chocolats au départ.  
**Combien de chocolats restent-il dans la boite ?**



--	--	--	--	--	--	--	--	--	--	--	--	--	--	--	--	--	--	--	--

 **Petits Problemes**

Moustik colle 5 autocollants par page dans son album. Il remplit 3 pages.  
**Combien a-t-il collé d'autocollants ?**



--	--	--	--	--	--	--	--	--	--	--	--	--	--	--	--	--	--	--	--